

SAMU-REGN 10

Navn: _____



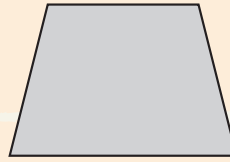
1. $743 + 166 =$ _____

2. $257 - 130 =$ _____

3. $24 \cdot 7 =$ _____

4. $45 : 9 =$ _____

12. Tegn diagonaler på figuren.



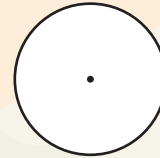
5. Skriv de hele tal, der går op i 24.



6. $2 \cdot x = 14$ $x =$ _____

7. $x - 12 = 10$ $x =$ _____

13. Farv $\frac{2}{3}$ af hver figur.



Sæt $>$ $<$ eller $=$

14. $4 \cdot 5$ $30 - 11$

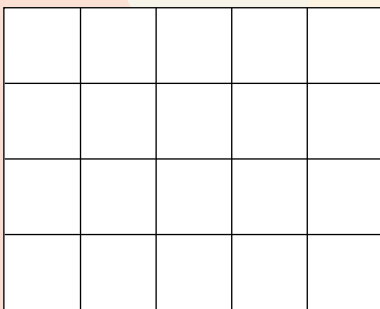
15. $2,5$ $2,50$

Et æble koster 2,5 kr.

8. Hvad får du tilbage, hvis du køber 10 æbler og betaler med 50 kr.? _____ kr.

9. Hvor mange æbler kan du købe for 20 kr.? _____ stk.

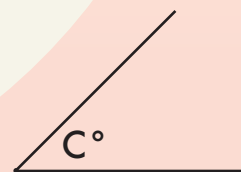
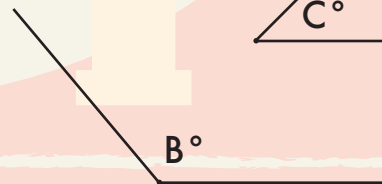
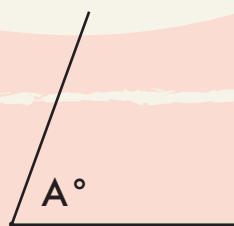
10. Tegn en ligebenet trekant med et areal på 8 cm^2 .



16. $2000 \text{ gram} =$ _____ kg

17. $1,2 \text{ kg} =$ _____ gram

Mål vinklerne:




11. Gennemsnittet af 3, 6, 12:

18. $A^\circ =$ _____ $^\circ$

19. $B^\circ =$ _____ $^\circ$

20. $C^\circ =$ _____ $^\circ$



Point