


SAMU-REGN 12

Navn: _____

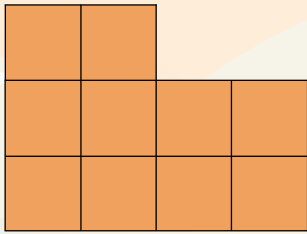


1. $664 + 438 =$ _____
2. $642 - 455 =$ _____
3. $18 \cdot 4 =$ _____
4. $66 : 3 =$ _____

12. Farv $\frac{1}{5}$ af figuren.



5. Arealet af den farvede figur = _____ cm^2
6. Omkredsen af den farvede figur = _____ cm



Sæt $>$ $<$ eller $=$

13. $36 - 12$ $4 \cdot 6$

14. $2,5 + 3$ $1,5 \cdot 4$

15. $2,1 \text{ m} =$ _____ cm

16. $1,2 \text{ km} =$ _____ m

17. $800 \text{ meter} =$ _____ km

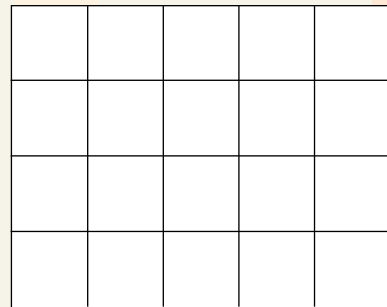
7. Hvad er $\frac{1}{4}$ af 200 kr.? _____ kr.

8. Hvad er $\frac{1}{2}$ af 50 kr.? _____ kr.

9. Fortsæt talrækken.

0,25	0,5			
------	-----	--	--	--

18. Tegn en retvinklet trekant med et areal på 6 cm^2 .



Tegn vinkler, der passer:



10. $A = 45^\circ$

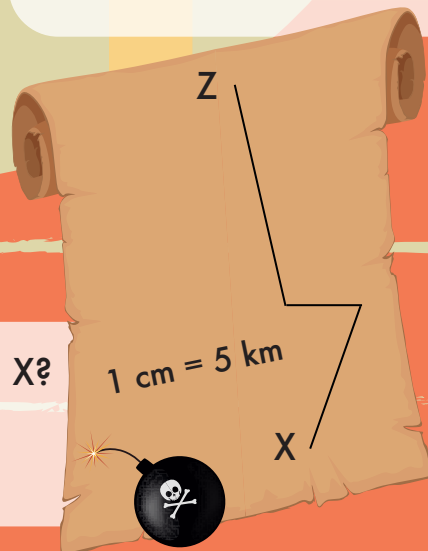
11. $B = 100^\circ$

19. Hvad er trekantens omkreds?

_____ cm

20. Hvor langt er ruten fra Z til X?

_____ km



Point