

SAMU-REGN 13

Navn: _____



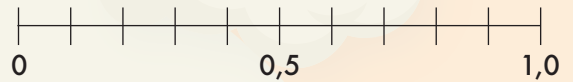
- $16,3 + 17,4 =$ _____
- $36 - 7,5 =$ _____
- $274 - 128 + 30 =$ _____

Hvad er værdien af x ?

13. $x + 7 = 21$ $x =$ _____

14. Fra kl. 8:20 til kl. 13:15 går der:
_____ timer og _____ min.

15. Sæt streger til tallinjen:
0,1 0,7 0,50



4. Tegn et rektanglet med en omkreds på 8 cm.



5. Forkort brøken $\frac{6}{9}$ mest muligt.

16. Udfyld skemaet:

:	8	4	2
40			

- 180 min. = _____ timer
- 400 g = _____ kg
- 23 cm = _____ mm
- 450 øre = _____ kr.

Du løber 3,5 km hver dag i en uge.

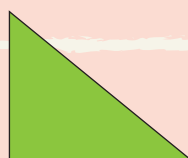


17. Hvor langt har du løbet? _____ km
18. Hvor meget er det i meter? _____ meter

Negative tal.


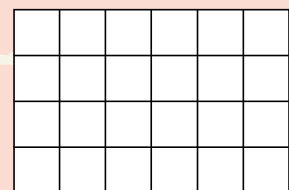
10. $14 - 19 =$ _____
11. $20 - 38 =$ _____

19. Skriv tallet, der består af:
2 tusinde, 3 enere, 5 tiere, 0 hundrede.

12. Skriv figurens navn på linjen nedenunder:



20. Farv $\frac{7}{12}$



Point