

SAMU-REGN 13

Navn: _____



1. $16,3 + 17,4 =$ _____

2. $36 - 7,5 =$ _____

3. $274 - 128 + 30 =$ _____

Hvad er værdien af x?

13. $x + 7 = 21$ $x =$ _____

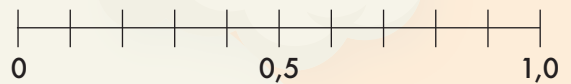
4. Tegn et rektanglet med en omkreds på 8 cm.

14. Fra 8:20 til 13:15 går der:

_____ timer og _____ min.

15. Sæt streger til tallinjen:

0,1 0,7 0,50



5. Forkort brøken $\frac{6}{9}$ mest muligt.

16. Udfyld skemaet:

:	8	4	2
40			

6. 180 min = _____ timer

7. 400 g = _____ kg

8. 23 cm = _____ mm

9. 450 øre = _____ kr

Du løber 3,5 km hver dag i en uge.

17. Hvor langt har du løbet? _____ km

18. Hvor meget er det i meter? _____ meter

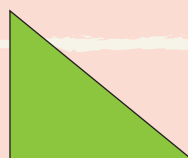


10. 10% af 300 kr. = _____

11. 5% af 200 kr. = _____

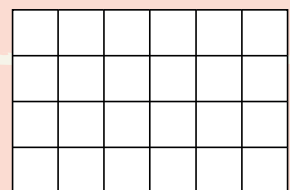
19. Skriv tallet, der består af:

2 tusinde, 3 enere, 5 tiere, 0 hundrede.

12. Skriv figurens navn på linjen nedenunder:



20. Farv 7/12.



Point