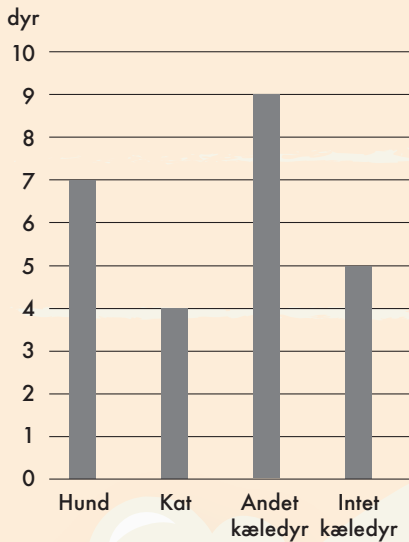


SAMU-REGN 14

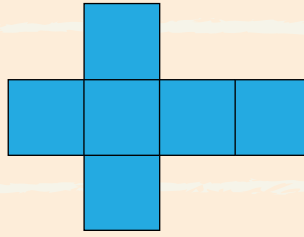
Navn: _____

Kæledyr i klassen



11. Arealet af den farvede figur = _____ cm²

12. Omkredsen af den farvede figur = _____ cm



13. Fra år 1783 til år 2021 er der gået: _____ år

1. Antal elever, der har et kæledyr = _____ stk.

2. Hvor mange elever går der i klassen? _____ stk.

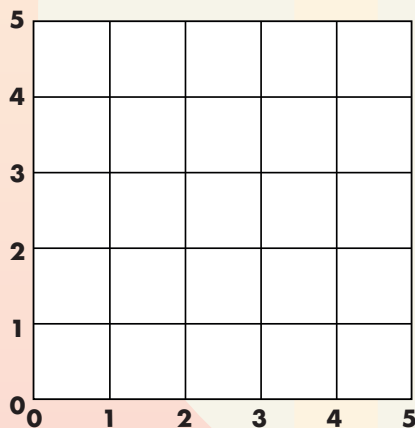
3. Brøkdelen, der intet kæledyr har: _____

14. 0,5 = _____ %

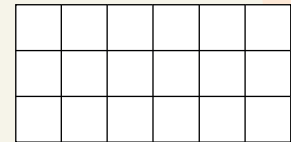
15. $\frac{3}{10}$ = _____ %

4. Tegn streger fra:

$(1;1) \rightarrow (1;4) \rightarrow (5;4) \rightarrow (1;1)$



16. Farv 5/6 af figuren.



17. Forkort brøken $\frac{9}{12}$ mest muligt.

5. Arealet af figuren = _____ cm²

6. Figurens omkreds = _____ cm

18. Gennemsnittet af 8, 6, 12, 14:

7. $873 + 174 =$ _____

8. $436 - 118 =$ _____

9. $24 \cdot 7 =$ _____

10. $120 : 8 =$ _____

Hvis værdien af $x = 7$, hvad bliver facit så?

19. $3 \cdot x + x =$ _____

20. $20 - 2 \cdot x =$ _____



Point