

SAMU-REGN 17

Navn: _____



1. $873 + 174 =$ _____

2. $436 - 118 =$ _____

Hvis værdien af x ?

11. $2x + 4 = 12$ $x =$ _____

12. $x - 5 = 12$ $x =$ _____

3. 300 min. = _____ timer

4. 4000 øre = _____ kr.

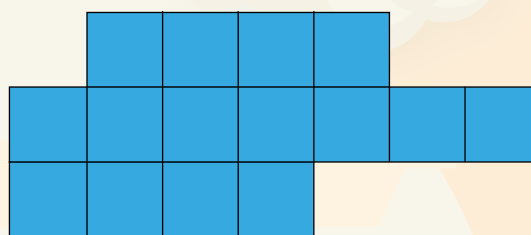
5. 450 cm = _____ m

6. 3000 g = _____ kg

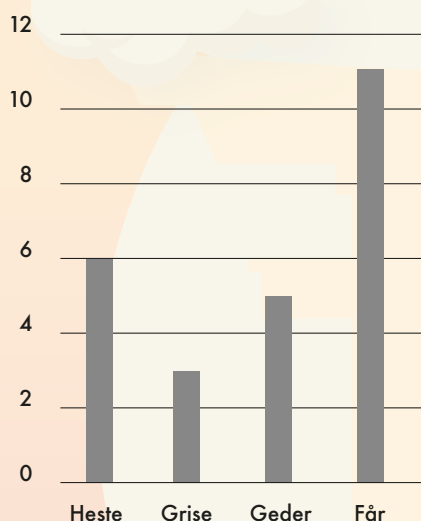
Se på figuren herunder.

13. Arealet af den farvede figur = _____ cm^2

14. Omkredsen af den farvede figur = _____ cm



Dyr i templet



Find det dobbelte.

15. $230 =$ _____

16. $520 =$ _____

I diagrammet kan du se antallet af dyr i et tempel.

7. Hvilket dyr er der flest af? _____

8. Hvor mange dyr er der i alt? _____ dyr

9. Hvor stor en procentdel er geder? _____ %

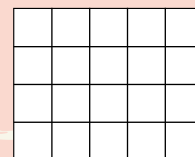
10. Skriv tallet, der består af:
7 tusinde, 4 tiendedele, 8 enere, 3 tiere, 5 hundrede.

Find det halve.

17. $420 =$ _____

18. $1050 =$ _____

19. Farv $\frac{2}{5}$ af figuren.



20. Hvis klokken er 16:10, hvad er den så om 4 timer og 55 minutter?

Så er klokken: _____



Point