

SAMU-REGN 19

Navn: _____



1. $265 + 473 =$ _____
2. $14,35 + 31,5 =$ _____
3. $915 - 274 =$ _____
4. $54,5 - 12,75 =$ _____

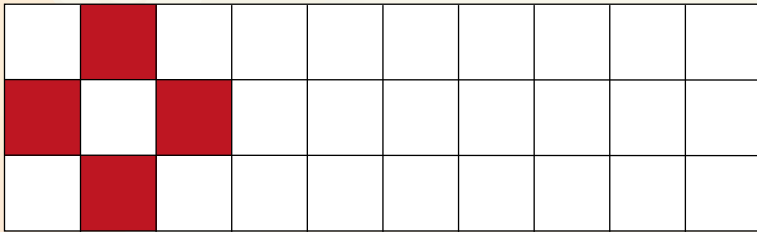
En munk køber 12 fisk.
En fisk koster 1,50 kobberstykke (ks)

11. Hvad skal munken betale? _____ ks
12. Hvad skal munken betale for 10 fisk? _____ ks
13. Hvor mange fisk kan munken købe for 12 kobberstykker? _____ fisk

Afrund til nærmeste 100'er.

5. $329 \approx$ _____
6. $4277 \approx$ _____

7. Gør mønstret færdigt.



Hvis $x = 3$, hvad bliver facit så?

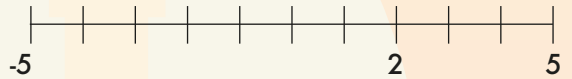
8. $x \cdot x + x =$ _____
9. $2 \cdot x - 5 =$ _____



14. Fra 6:05 til 13:00 går der...
_____ timer og _____ min.

15. Sæt streger til tallinjen:


3 -4 -1 0



16. $2,5$ time = _____ min.
17. $0,25$ kg = _____ g
18. $2,3$ m = _____ mm

10. Tallene bliver forvandlet.

Hvad er de blevet til på den anden side?



19. Skriv tallet, der består af:

$0,7 + 60 + 2 + 9000 + 400 + 0,03$



20. Hvor mange forskellige ruter er der mellem de to bygninger, når man skal krydse broen? _____ ruter.



Point