

SAMU-REGN 2

Navn: _____

- $335 + 75 = \underline{\hspace{2cm}}$
- $160 - 29 = \underline{\hspace{2cm}}$
- $15 \cdot 6 = \underline{\hspace{2cm}}$
- $18 : 3 = \underline{\hspace{2cm}}$
- $120 + 44 - 17 = \underline{\hspace{2cm}}$

Sæt $>$ $<$ eller $=$

13. $19 - 4$ 14

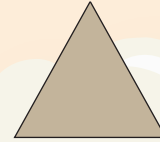
14. $20 : 2$ $4 \cdot 5$



6. Farv 100'erne blå og 10'erne gule:


5124 471 82

15. Mål omkredsen på figuren.



Omkredsen = _____ cm

7. Udfyld tallinjen.



16. Tegn en retvinklet trekant med en grundlinje på 4 cm og en højde på 4 cm.

8. Sorter disse tal efter størrelse. Mindste tal først.

162 155 140 195

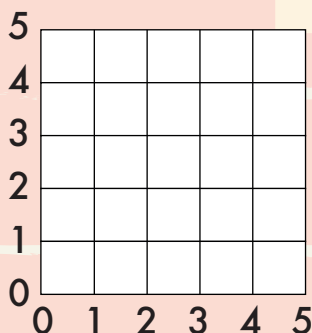


9. 4 cm = _____ mm
10. 60 mm = _____ cm
11. 1 min = _____ sek.

17. $17 + x = 25$ $x = \underline{\hspace{2cm}}$

18. $30 - x = 17$ $x = \underline{\hspace{2cm}}$

12. Sæt en streg fra (1;1) til (4;4)



Et brød koster 12 kr., og et krus te koster 5 kr.

19. Hvad koster 3 brød og et krus te?

Svar: _____ kr.

20. Hvad koster 2 brød og 4 krus te?

Svar: _____ kr.



Point