

SAMU-REGN 24

Navn: _____

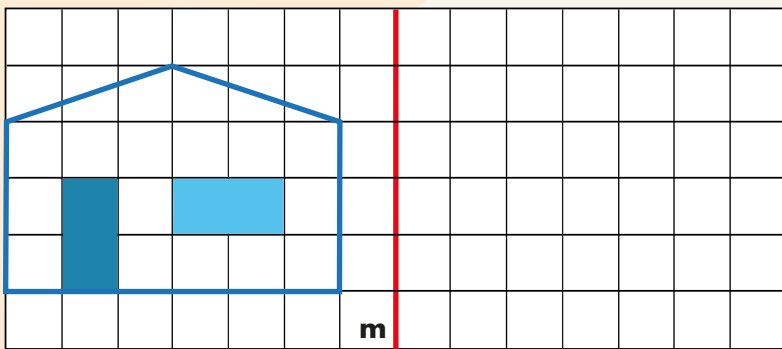
Afgør om følgende udsagn er sande (s) eller falske (f).

1. Der er 24 timer i et døgn. _____
2. 31 dage > 4 uger. _____
3. Et kilo bly vejer mere end 1000 gram. _____
4. 100 dl = 10 liter. _____
5. Der er 3 diagonaler i en firkant. _____

12. Tegn en stump vinkel.



6. Spejl figuren i linjen m.



13. Find gennemsnittet af 4, 8, 10, 2:

Svar: _____

14. $15,5 : 10 =$ _____

15. $750 : 100 =$ _____

16. $\frac{1}{4} + \frac{1}{2} =$ _____

En hest koster 2500 kobberstykker (ks).
Den bliver sat ned til 1850 kobberstykker.

7. Hvor stor er besparelsen? _____ ks


17. Tallene bliver forvandlet.

Hvad er de blevet til på den anden side?

Hvis $x = 7$ og $y = 3$, så er...

8. $y \cdot x =$ _____

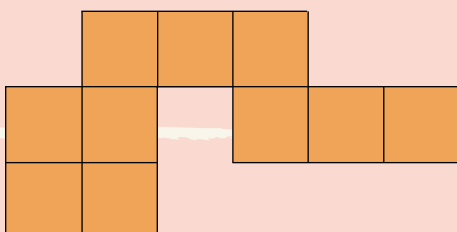
9. $2 \cdot x - y =$ _____



Se på figuren herunder.

10. Arealet af den farvede figur = _____ cm^2

11. Omkredsen af den farvede figur = _____ cm



Løs stykkerne:

18. $22 \cdot 40 =$ _____

19. $4,6 \cdot 100 =$ _____

20. $10 \cdot 10 \cdot 10 =$ _____



Point