

SAMU-REGN 31

Navn: _____

Afrund til nærmeste tusinder.

1. $2478 \approx$ _____

2. $3601 \approx$ _____


4. $2,3 \cdot 10 =$ _____

5. $7,51 \cdot 100 =$ _____

6. $83 : 10 =$ _____

7. $190 : 100 =$ _____

3. Tegn figurernes symmetriakser med en streg:



Omregn:


8. $20 \text{ dl} =$ _____ liter

9. $2,5 \text{ kg} =$ _____ gram



10. Skriv de 6 forskellige trecifrede tal du kan danne med cifrene 2, 4 og 6:

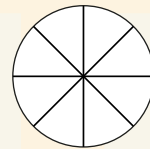
11. Sæt visere på uret, så det passer med tiden.



14:45

12. Farv i forskellige farver.

$\frac{1}{8}$ $\frac{1}{4}$ $\frac{5}{8}$



Løs ligningerne:

13. $3x + 5 = 29$ $x =$ _____

14. $2x + 4 = 7$ $x =$ _____



15. Find tallet midt imellem.

50

82

En terning har 8 sider. Svar på følgende spørgsmål ved hjælp af brøker. Forkort hvis muligt.

16. Hvad er sandsynligheden for at slå 7 eller 8?


17. Hvad er sandsynligheden for at slå et ulige tal?

18. Hvad er sandsynligheden for at slå under 6?

Du slår følgende kombination af slag: 3; 8; 7; 2; 6; 4

19. Hvad er den samlede sum af dine slag? _____

20. Hvad er gennemsnittet af dine slag? _____



Point