

SAMU-REGN 35

Navn: _____

1. $40 - 16 + 0,5 =$ _____

2. $5 \cdot 5 \cdot 4 =$ _____

3. $64,05 - 16,4 =$ _____

4. $56 : 4 =$ _____

Afgør om følgende udsagn er sande (s) eller falske (f).

13. Der er 48 halve timer i et døgn. _____

14. En retvinkel er ca 90° . _____

15. Et rektangel er større end et kvadrat. _____

16. En trekant har ingen diagonaler. _____



5. Fra 09:40 til 21:45 går der?

_____ timer + _____ min.

17. Fortsæt talrækken:

115

155

195

Sæt $>$ $<$ eller $=$

6. 10,07 10,2

7. 250 g 0,34 kg

8. 3 L 30 dl

En dreng skal købe en ost, et brød og en type smør. Han kan vælge mellem: 4 oste, 3 brød og to typer smør.

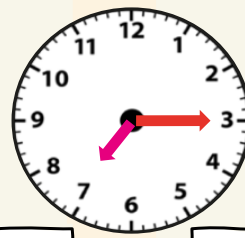
18. Hvor mange kombinationsmuligheder har han?

_____ muligheder.

9. Løs opgaverne:

X	$2 \cdot x - 2$	$x : 2 + 4$
5		
10		

19. Hvad er klokken?



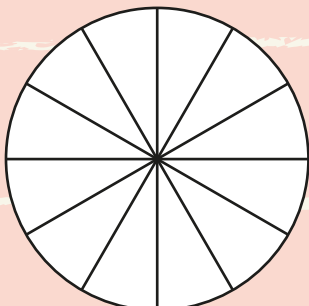
: eller :

Farv figuren efter brøkerne.


10. Rød: $\frac{2}{3}$

11. Blå: $\frac{1}{4}$

12. Gul: $\frac{1}{12}$



20. Sæt viser på uret så det passer med tiden.



23:45



Point