

SAMU-REGN 4

Navn: _____

1. Skriv tallet, der består af:
4 hundrede, 2 tusinde, 7 enere, 3 tiere.
- _____

Hvis værdien af $x = 3$, hvad bliver facit så?

2. $30 : x =$ _____
3. $15 : x + 10 =$ _____

Sæt $>$ $<$ eller $=$

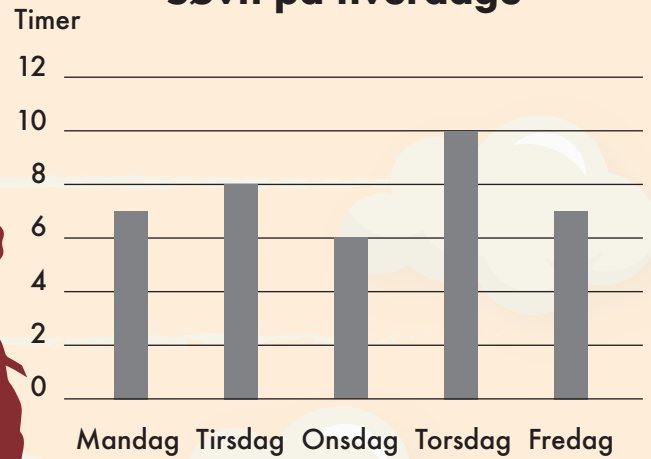
4. $10 \cdot 6$ $31 + 29$
5. $40 : 5$ $3 + 9$

6. Mål sværdet (kantana'en) og skriv svaret i hele cm:

Længde: _____ cm

7. Tegn en streg, der er $\frac{1}{3}$ så lang som sværdet.

Søvn på hverdage



Diagrammet viser Lises søvn fem hverdage.

11. Hvilken dag fik hun mest søvn? _____
12. Hvilken dag fik hun mindst søvn? _____
13. Hvor mange timers søvn fik hun i alt? _____

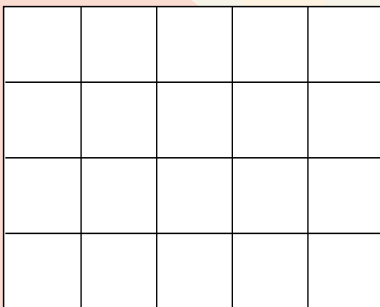
8. Fortsæt talrækken.

12		20		28	
----	--	----	--	----	--

18. Hvad bliver det næste tal?

1	2	4	8	
---	---	---	---	--

9. Tegn et rektangel med et areal på 12 cm^2



10. Hvad er rektanglets omkreds?


O = _____ cm

19. Sæt en ring om de hele tal:

13 **2,5** $\frac{1}{2}$ **1** **0,2** $\sqrt{5}$

20. Hvor mange timer er der
fra 9:15 til 16:15?

_____ timer



Point