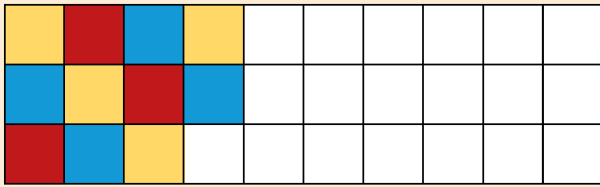


# SAMU-REGN 40

Navn: \_\_\_\_\_

1. Gør mønstret færdigt.



2. Gennemsnittet af 2, 4, 6, 8, 10, 12

Svar: \_\_\_\_\_

3. Fortsæt talrækken:

0		15	22,5	
---	--	----	------	--

En samurai deler med et hug en mobiltelefon i to lige store stykker. Mobiltelefonen vejer 226 gram.

4. Hvad vejer hver del nu? \_\_\_\_\_ g

5. Hvad er det i kilo? \_\_\_\_\_ kg

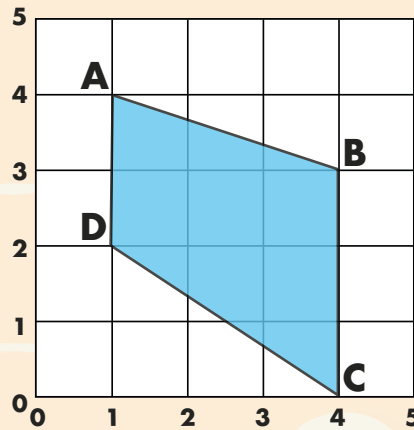

6. Fra år 1066 til år 2022 er der gået? \_\_\_\_\_ år.

7. Fra kl. 23:10 til kl. 04:05 går der?

\_\_\_\_\_ t. + \_\_\_\_\_ min.

8. Tallene bliver forvandlet.

Hvad er de blevet til på den anden side?



9. Koordinatsættet til A = ( \_\_\_ ; \_\_\_ )

10. Arealet af figuren = \_\_\_\_\_ cm<sup>2</sup>

11. Tegn figurens diagonaler.

Afrund til nærmeste 1000'er.

12. 45632 ≈ \_\_\_\_\_

13. 67266 ≈ \_\_\_\_\_

Sæt > < eller =

14. 7,9  7,019

15. 1,6  0,8 + 0,8

Forkort med 4.

16.  $\frac{28}{40} = \frac{\quad}{\quad}$

17.  $\frac{44}{52} = \frac{\quad}{\quad}$



18. 67,5 + 1502 = \_\_\_\_\_

19. 200 - 44,5 = \_\_\_\_\_

20. 7 · 21 = \_\_\_\_\_



Point