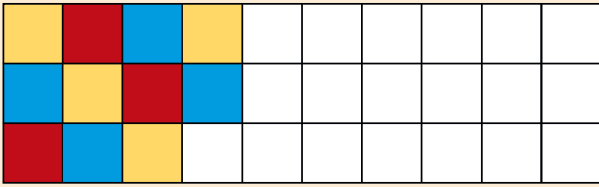


SAMU-REGN 40

Navn: _____

1. Gør mønstret færdigt.



2. Gennemsnittet af 2, 4, 6, 8, 10, 12

Svar: _____

3. Fortsæt talrækkerne:

0		15	22,5	
---	--	----	------	--

En samurai deler med et hug en mobil telefon i to lige store stykker. Mobiltelefonen vejer 226 gram.

4. Hvad vejer hver del nu? _____ g

5. Hvad er det i kilo? _____ kg

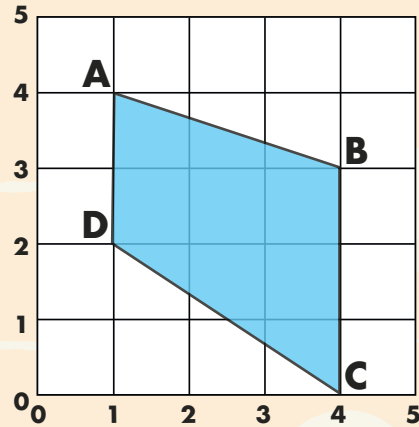

6. Fra år 1066 til år 2022 er der gået? _____ år.

7. Fra 23:10 til 04:05 går der?

_____ t. + _____ min.

8. Tallene bliver forvandlet.

Hvad er de blevet til på den anden side?



9. Koordinatsættet til A = (_____ ; _____)

10. Arealet af figuren = _____ cm²

11. Tegn figurens diagonaler.

Afrund til nærmeste 1000'er.

12. 45632 ≈ _____

13. 67266 ≈ _____

Sæt > < eller =

14. 7,9 7,019

15. 1,6 0,8 + 0,8

Forkort med 4.

16. $\frac{28}{40} = \frac{\quad}{\quad}$

17. $\frac{44}{52} = \frac{\quad}{\quad}$

18. 67,5 + 1502 = _____

19. 200 - 44,5 = _____

20. 7 · 21 = _____



Point