

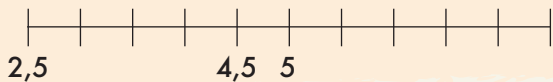
SAMU-REGN 6

Navn: _____



1. Sæt tallene ind på tallinjen:

3,5 3 6 7,5



2. Sortér disse tal efter størrelse. Mindste tal først.

1,432 1,64 1,5

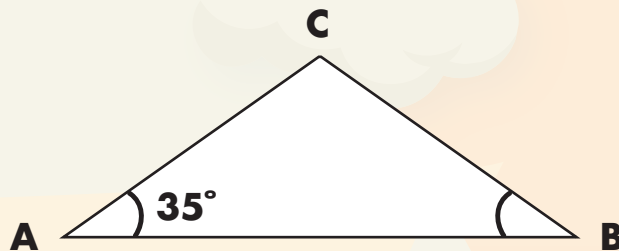
10. Fire drager skulle dele en guldskat på 840 guldmønter (gm). Hvor mange mønter fik hver drage?

Svar: _____ gm.

Trekanten er ligebenet. Vinkel A er 35° .

11. Hvad er vinkel B? _____ $^\circ$

12. Hvad er vinkel C? _____ $^\circ$

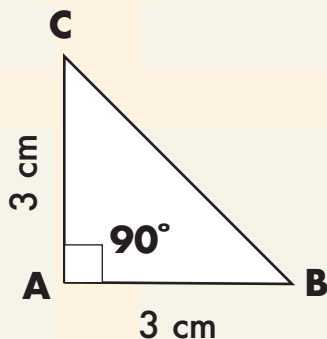


Se på trekanten.

3. Arealet = _____ cm^2

4. Vinket A er 90° . Hvad er vinkel C?

Svar: _____ $^\circ$



13. $46 + 9,5 =$ _____

14. $94 - 45 =$ _____

15. $7 \cdot 11 =$ _____

16. $40 : 8 =$ _____

17. $50 + 120 - 17 =$ _____

Afrund til nærmeste 100.

5. $176 \approx$ _____

6. $549 \approx$ _____

7. $1203 \approx$ _____



18. $4 \cdot x = 16$ $x =$ _____

19. $x + 4 = 10$ $x =$ _____

8. Farv $3/12$ af felterne.

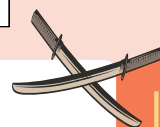
| | | |
|--|--|--|
| | | |
| | | |
| | | |
| | | |

9. Udfyld skemaet:

| | | |
|-----------|-----------|-----------|
| + | 20 | 50 |
| 25 | | |
| 75 | | |

20. Farv $3/6$ af felterne.

| | | |
|--|--|--|
| | | |
| | | |
| | | |
| | | |



Point