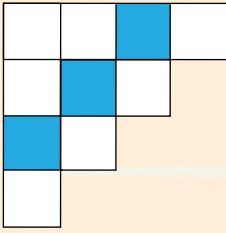
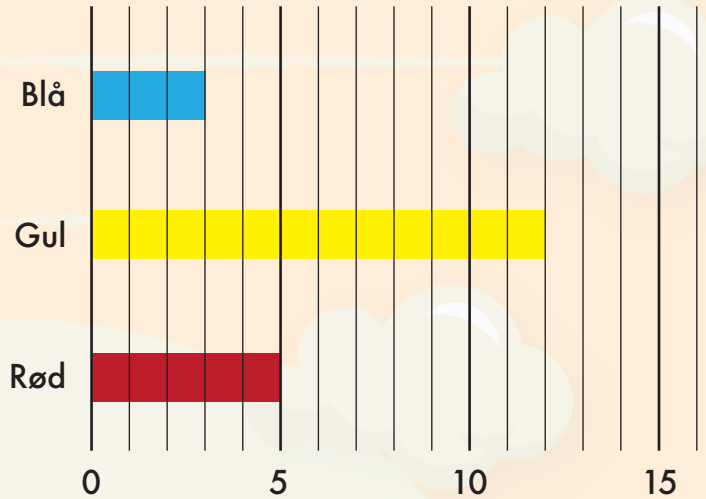


1. Hvor stor en brøkdel er farvet?

Svar: _____



Antal kugler i tombola



2. Du sover fra kl. 21:30 til kl. 7:00.

Hvor lang tid er det?

Svar: _____ timer og _____ min.

Sæt > < eller =

3. $60 : 6$ $4 \cdot 3$

4. $21 - 5$ $8 + 9$

Diagrammet viser farven på forskellige kugler i en tombola.

14. Hvilken farve er det mest sandsynligt at trække? _____

15. Hvor mange kugler er der i alt? _____

16. Hvad er sandsynligheden for at trække en rød? _____

Hvis værdien af $x = 8$, hvad bliver facit så?

5. $17 + x =$ _____

6. $3 \cdot x - 12 =$ _____

17. $0,5 \text{ km} =$ _____ m

18. $250 \text{ cm} =$ _____ m

19. $1 \text{ kg} =$ _____ gram

7. $55 + 336 =$ _____

8. $9,3 + 4,4 =$ _____

9. $166 - 58 =$ _____

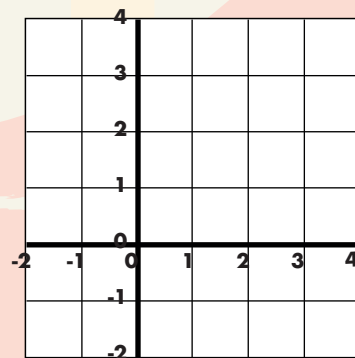
10. $15 - 1,5 =$ _____

11. $40 \cdot 8 =$ _____

12. $200 - 40 + 7 =$ _____

20. Tegn streger fra:

$(-1;-1) \rightarrow (-1;3) \rightarrow (3;3) \rightarrow (-1;-1)$



13. Fortsæt talrækken.

		16	24		
--	--	----	----	--	--



Point