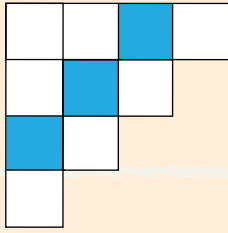


# SAMU-REGN 7

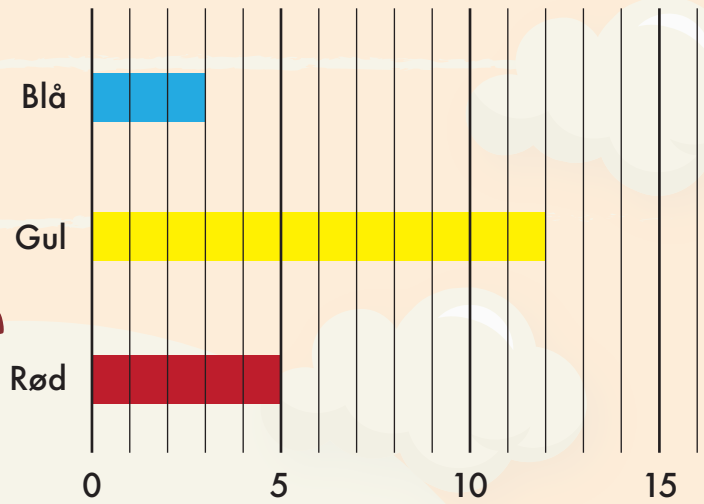
Navn: \_\_\_\_\_

1. Hvor stor en brøkdel er farvet?

Svar: \_\_\_\_\_



## Antal kugler i tombola



2. Du sover fra 21:30 til 7:00.

Hvor lang tid er det?

Svar: \_\_\_\_\_ timer og \_\_\_\_\_ min.

Sæt > < eller =

3.  $60 : 6$    $4 \cdot 3$

4.  $21 - 5$    $8 + 9$

Diagrammet viser farven på forskellige kugler i en tombola.

14. Hvilken farve er det mest sandsynligt at trække? \_\_\_\_\_

15. Hvor mange kugler er der i alt? \_\_\_\_\_

16. Hvad er sandsynligheden for at trække en rød? \_\_\_\_\_

Hvis værdien af  $x = 8$ , hvad bliver facit så?

5.  $17 + x =$  \_\_\_\_\_

6.  $3 \cdot x - 12 =$  \_\_\_\_\_

17.  $0,5 \text{ km} =$  \_\_\_\_\_ m

18.  $250 \text{ cm} =$  \_\_\_\_\_ m

19.  $1 \text{ kg} =$  \_\_\_\_\_ gram

7.  $55 + 336 =$  \_\_\_\_\_

8.  $9,3 + 4,4 =$  \_\_\_\_\_

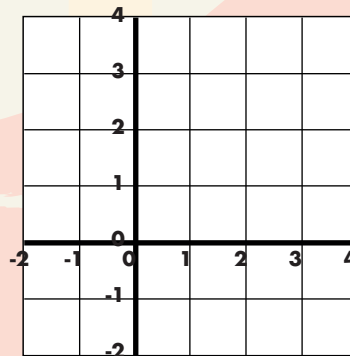
9.  $166 - 58 =$  \_\_\_\_\_

10.  $15 - 1,5 =$  \_\_\_\_\_

11.  $40 \cdot 8 =$  \_\_\_\_\_

12.  $200 - 40 + 7 =$  \_\_\_\_\_

20. Tegn streger fra:  
 $(-1;-1) \rightarrow (-1;3) \rightarrow (3;3) \rightarrow (-1;-1)$



13. Fortsæt talrækken.

		16	24		
--	--	----	----	--	--



Point