




# Sherifmatematik 4


Elevark


14 skud til 14 dåser.  
Hvor mange "gange" kan du ramme?!


$3 \cdot 5 =$   \_\_\_\_\_


$7 \cdot 3 =$   \_\_\_\_\_


$9 \cdot 3 =$   \_\_\_\_\_


$8 \cdot 5 =$   \_\_\_\_\_


$5 \cdot 10 =$   \_\_\_\_\_


$6 \cdot 5 =$   \_\_\_\_\_


$2 \cdot 7 =$   \_\_\_\_\_


$9 \cdot 2 =$   \_\_\_\_\_


$8 \cdot 4 =$   \_\_\_\_\_

$10 \cdot 10 =$   \_\_\_\_\_

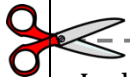
$4 \cdot 5 =$   \_\_\_\_\_

$7 \cdot 5 =$   \_\_\_\_\_

$3 \cdot 4 =$   \_\_\_\_\_

$4 \cdot 9 =$   \_\_\_\_\_

Klip sedlen af og giv den til din lærer!



Lad eleven læse resultatet op. Hvis svaret er på listen, har de ramt dåsen.  
Du kan give fra 1 til 3 sherifstjerner afhængigt af resultat og niveau.

18	100	32	14	35	40	20
30	12	36	27	15	50	21



Navn: \_\_\_\_\_