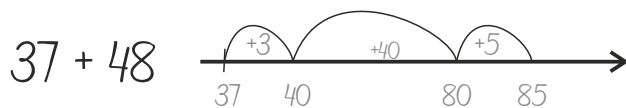
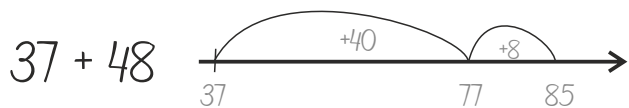
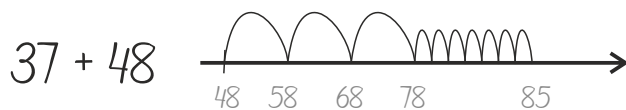
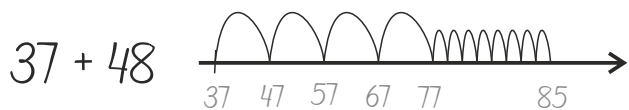


Kan du hoppe plus-stykker på en tallinje? Start med at afsætte det ene tal på tallinjen (brug dine strategier for at vælge, hvilket tal du vil afsætte). Vælg nu din strategi for at fortsætte.

LÆR OM  
Strategier med tal  
på tallinjer 1D  
MED MATTIP

Se eksemplerne:



$13 + 57$  \_\_\_\_\_ →

$44 + 99$  \_\_\_\_\_ →

$36 + 67$  \_\_\_\_\_ →

$23 + 58$  \_\_\_\_\_ →

$54 + 58$  \_\_\_\_\_ →

$32 + 78$  \_\_\_\_\_ →

$62 + 99$  \_\_\_\_\_ →

$62 + 88$  \_\_\_\_\_ →

$24 + 38$  \_\_\_\_\_ →

$35 + 68$  \_\_\_\_\_ →

$15 + 87$  \_\_\_\_\_ →

$22 + 69$  \_\_\_\_\_ →

$35 + 47$  \_\_\_\_\_ →

$32 + 49$  \_\_\_\_\_ →

$35 + 97$  \_\_\_\_\_ →

$46 + 98$  \_\_\_\_\_ →

$64 + 86$  \_\_\_\_\_ →

$54 + 68$  \_\_\_\_\_ →

