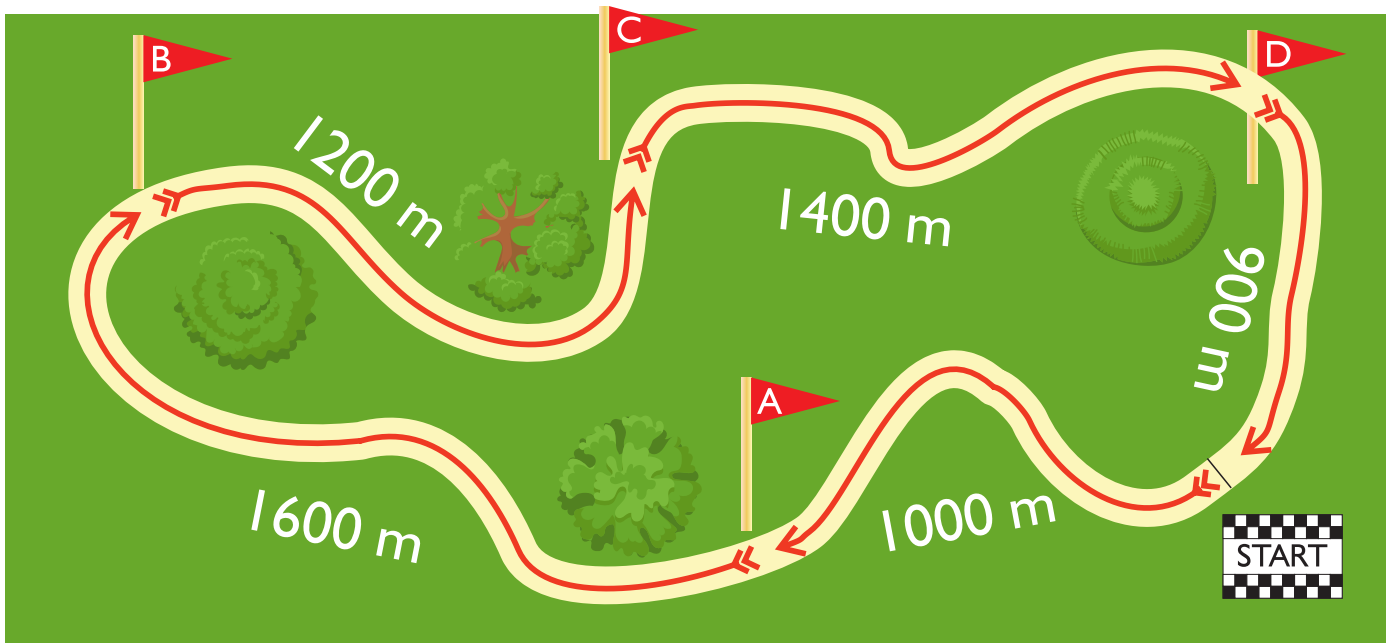
































Prøv at finde vej fra de forskellige pitstop på løberuten. Du skal følge pilens retning og lægge del-distancerne (antal meter) sammen. Sæt dine resultater ind i skemaet nederst på siden. Udfyld hele skemaet.

LÆR OM
Hvor lang er
løberuten? 2
MED MATTIP



 →  <input type="text"/> m	 →  <input type="text"/> m	 →  <input type="text"/> m
 →  <input type="text"/> m	 →  <input type="text"/> m	 →  <input type="text"/> m
 →  <input type="text"/> m	 →  <input type="text"/> m	 →  <input type="text"/> m
 →  <input type="text"/> m	 →  <input type="text"/> m	 →  <input type="text"/> m
 →  <input type="text"/> m	 →  <input type="text"/> m	 →  <input type="text"/> m

TIL FRA	