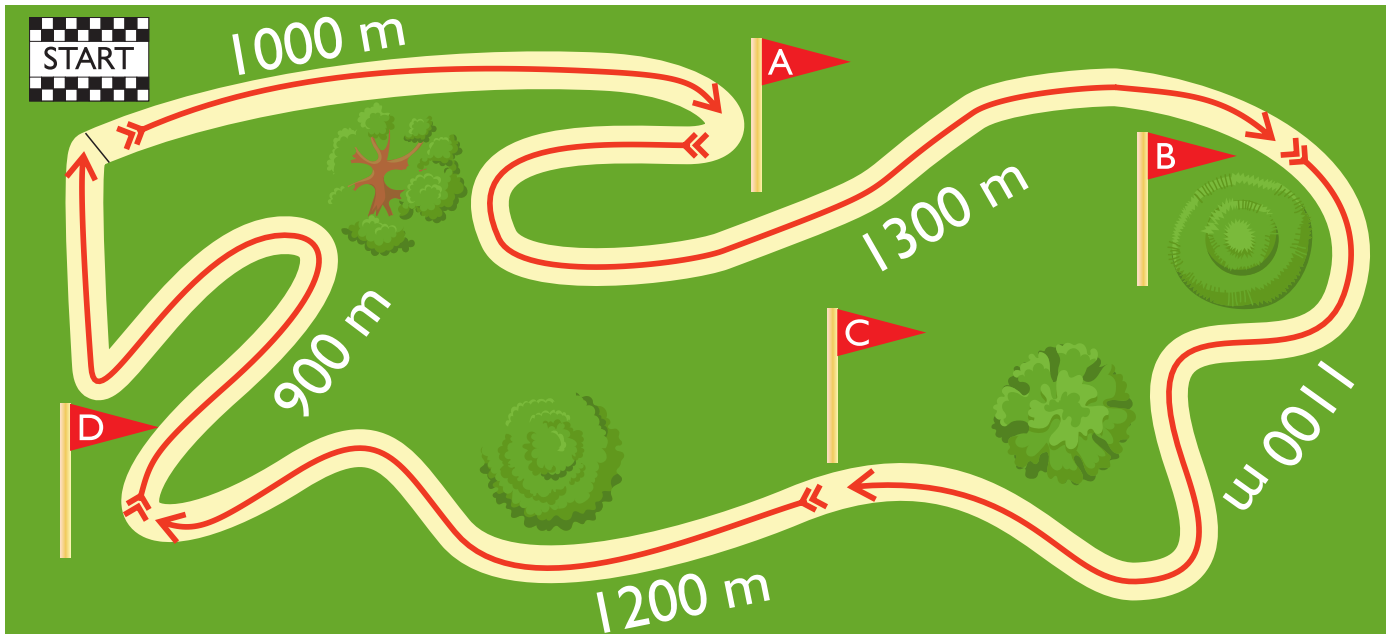
































Prøv at finde vej fra de forskellige pitstop på løberuten. Du skal følge pilens retning og lægge del-distancerne (antal meter) sammen. Skriv dem som km og m. Sæt dine resultater ind i skemaet nederst på siden. Udfyld hele skemaet.

LÆR OM  
Hvor lang er  
løberuten? 3  
MED MATTIP



 → 	km    m	<input type="text"/>	<input type="text"/>
 → 	km    m	<input type="text"/>	<input type="text"/>
 → 	km    m	<input type="text"/>	<input type="text"/>
 → 	km    m	<input type="text"/>	<input type="text"/>
 → 	km    m	<input type="text"/>	<input type="text"/>
 → 	km    m	<input type="text"/>	<input type="text"/>
 → 	km    m	<input type="text"/>	<input type="text"/>
 → 	km    m	<input type="text"/>	<input type="text"/>
 → 	km    m	<input type="text"/>	<input type="text"/>
 → 	km    m	<input type="text"/>	<input type="text"/>
 → 	km    m	<input type="text"/>	<input type="text"/>
 → 	km    m	<input type="text"/>	<input type="text"/>
 → 	km    m	<input type="text"/>	<input type="text"/>
 → 	km    m	<input type="text"/>	<input type="text"/>
 → 	km    m	<input type="text"/>	<input type="text"/>

TIL FRA	