

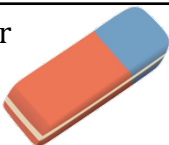






Hvad måler tingene i dit penalhus?



Find dit penalhus og en lineal.

Du skal nu måle længden og bredden på dine ting i penalhuset.

Lineal 	Længde: cm	Bredde: cm
Blyant 	Længde: cm	Bredde: cm
Viskelæder 	Længde: cm	Bredde: cm
Blyantspidser 	Længde: cm	Bredde: cm
Saks 	Længde: cm	Bredde: cm
Tus 	Længde: cm	Bredde: cm
Farveblyant 	Længde: cm	Bredde: cm
Valgfri ting:	Længde: cm	Bredde: cm
Valgfri ting:	Længde: cm	Bredde: cm

