

REGN-BUEN 12



Navn: _____

1. $528 + 366 =$ _____

2. $608 - 357 =$ _____

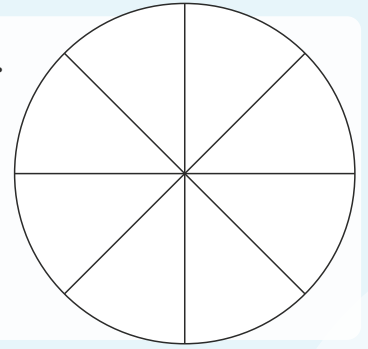
3. $6 \cdot 8 =$ _____

9. Farv i forskellige farver.

$\frac{1}{8}$

$\frac{1}{4}$

$\frac{5}{8}$

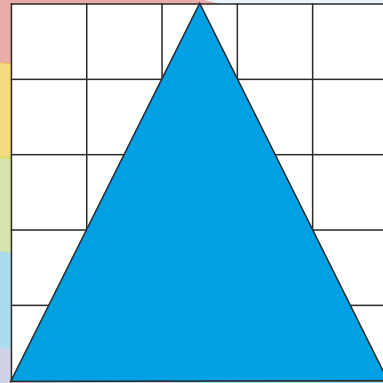



4. Hvad er arealet af den blå figur?

= _____ cm^2

5. Hvad er arealet af det hvide felt?

= _____ cm^2



6. Find tallet i midten.

40		80
----	--	----

Afrund til nærmeste 100'er.

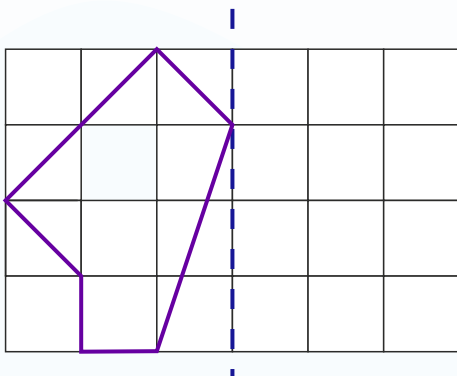
10. $1234 \approx$ _____

Sæt $>$ $<$ eller $=$


11. $6 \cdot 6$ $7 \cdot 5$

12. $3 \cdot 4$ $2 \cdot 6$

7. Spejl figuren.



13. Sæt visere på uret, så det passer med klokken.



15:45

8. Udfyld funktionen:

x	0	1	2	3	4
$2 \cdot x + 1$					

Afrund til nærmeste 10'er.

14. $54 \approx$ _____

15. $17 \approx$ _____



Point