

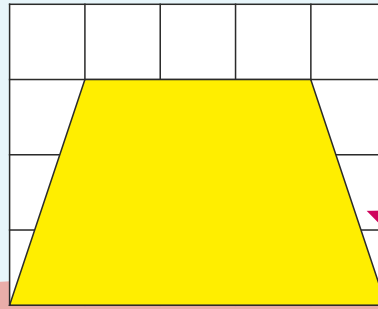
# REGN-BUEN 16

Navn: \_\_\_\_\_

1.  $88 + 344 =$  \_\_\_\_\_

2.  $101 - 62 =$  \_\_\_\_\_

3.  $5 \cdot 9 =$  \_\_\_\_\_

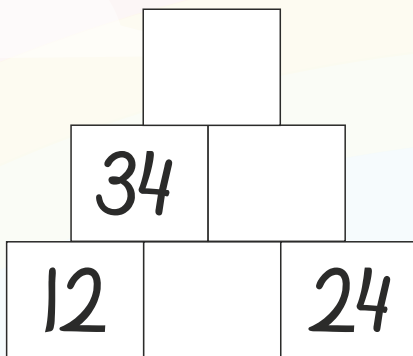


Hvad skal der stå, for at stykkerne passer?

8.  $12 +$  \_\_\_\_\_  $= 44$

9. \_\_\_\_\_  $- 15 = 30$

4. Løs pluspyramiden.



10. Hvad er arealet af den gule figur?

$=$  \_\_\_\_\_  $\text{cm}^2$

11. Hvad er arealet af det hvide felt?

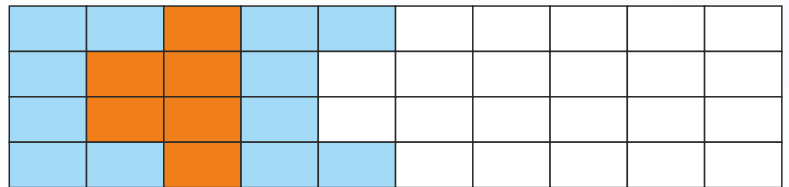
$=$  \_\_\_\_\_  $\text{cm}^2$

5. Mål stregen. Hvor mange millimeter er den?



$=$  \_\_\_\_\_ mm

12. Fortsæt mønstret.



13.  $500 \text{ cm} =$  \_\_\_\_\_ meter

14.  $2,4 \text{ cm} =$  \_\_\_\_\_ mm

15.  $2,5 \text{ meter} =$  \_\_\_\_\_ cm

Opstil som gangestykke og regn.

6.  $8 + 8 + 8 + 8 =$  \_\_\_\_\_  $\cdot$  \_\_\_\_\_  $=$  \_\_\_\_\_

7.  $9 + 9 + 9 =$  \_\_\_\_\_  $\cdot$  \_\_\_\_\_  $=$  \_\_\_\_\_



Point