



Navn: \_\_\_\_\_

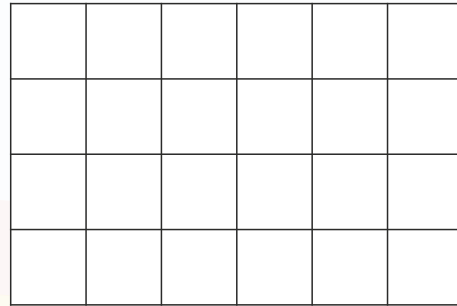
1. Løs plus-krydsen.

8		5	20
	9	6	
7			

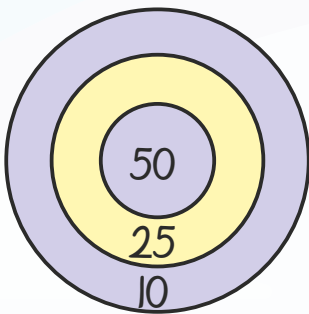
25   24   23



7. Tegn en trekant med et areal på 9 cm<sup>2</sup>.

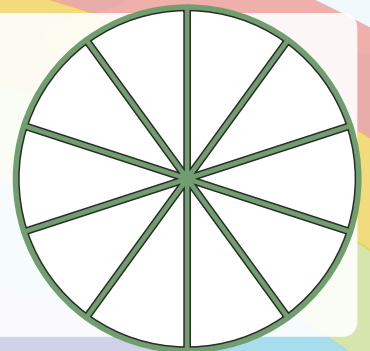


2. Lav 95 point med færrest mulige skud.



8. Farv i forskellige farver.

$\frac{1}{5}$     $\frac{1}{2}$     $\frac{3}{10}$



9.  $5,5 + 7 + 3 =$  \_\_\_\_\_

10.  $2,5 + 6 - 4,5 =$  \_\_\_\_\_

11.  $3 \cdot 3 + 4 =$  \_\_\_\_\_

Afrund til nærmeste 1000'er.

12.  $3374 \approx$  \_\_\_\_\_

13.  $6748 \approx$  \_\_\_\_\_

14.  $1502 \approx$  \_\_\_\_\_

Sæt > < eller =

3.  $12 + 4 + 7$    $31 - 4 - 4$

4.  $2,5 \cdot 4$    $2 \cdot 5$




15. Udfyld funktionen:

x	2	4	6	8	10
x - 2					

5. Hvor mange kuber er der? = \_\_\_\_\_ stk.

6. Hvis én kube vejer 2 gram, hvad vejer hele figuren så? = \_\_\_\_\_ gram



Point