

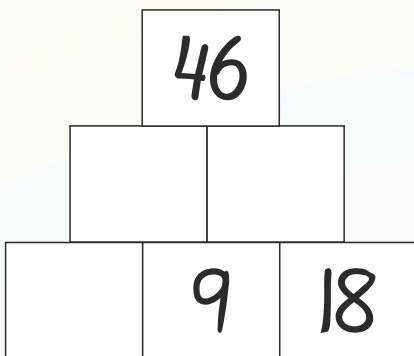
Hvad skal der stå, for at stykkerne passer?

1. _____ + 66 = 100

2. 82 - _____ = 60

3. 5 • _____ = 25

4. Løs pluspyramiden.



5. 350 cm = _____ meter

6. 25 cm = _____ mm

Afrund til nærmeste 10'er.

7. 34 ≈ _____

8. 618 ≈ _____

9. 1395 ≈ _____

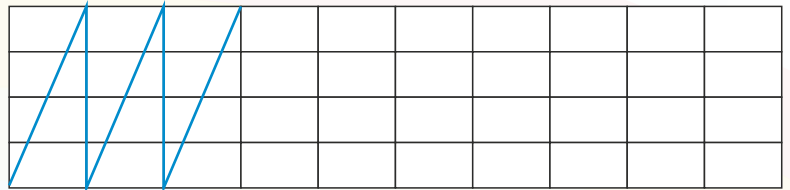
10. Find tallet i midten.



11. Mål stregen. Hvor mange millimeter er den?



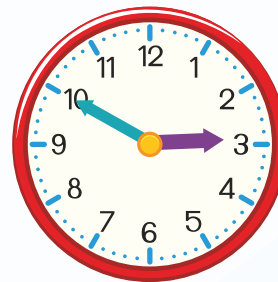
12. Fortsæt mønstret.



13. Udfyld funktionen:

| | | | | | |
|-------|---|---|---|---|---|
| x | 0 | 1 | 2 | 3 | 4 |
| 2 • x | | | | | |

14. Hvad er klokken?



15. Hvad er værdien?

• = 16 = _____

• = 24 = _____

+ = 14 = _____



Point